


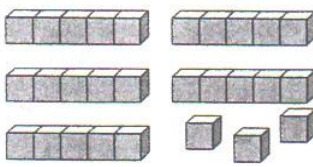
9 級	名 前	がく ねん 年	きょう じつ 教 室	めい 名	会員番号			
	解 答							

(配点 *印・各3点 無印・各2点)

★ かずを すうじで かきましょう。

(1)  14 ひき

(2)  16 ほん本

(3)  28 こ

★ に あう かずを かきましょう。

(4) 10と 1で 11 です。

(5) 17は 10と 7 です。

(6) 10が 2こと 1が 5こで 25 です。

(7) 30は 10が 3 こです。
*

★ に あう かずを かきましょう。

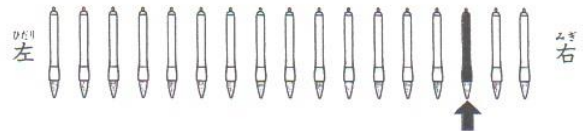
(8) 14 — 16 — 18 — 20

(9) 19 — 18 — 17 — 16

(10) 30より 1 ちい小さい かずは
*

29 です。

★ した下の えを みて見て に あう かずを かきましょう。



(11) ↑の ふでは、左から

15 ばんめです。

★ いちばん おお大きい かずを かきましょう。

(12) 12, 10, 8 12

(13) 26, 30, 28 30
*

★ たしざんを しましょう。

(14) $4 + 3 = 7$

(15) $3 + 7 = 10$

(16) $10 + 0 = 10$

(17) $7 + 6 = 13$

(18) $8 + 7 = 15$

★ ひきざんを しましょう。

(19) $9 - 3 = 6$

(20) $10 - 6 = 4$

(21) $9 - 9 = 0$

(22) $14 - 8 = 6$

(23) $12 - 4 = 8$

★ けいざんを しましょう。

(24) $9 + 10 = 19$

(25) $12 + 6 = 18$

(26) $17 - 3 = 14$

★ けいざんを しましょう。

(27) $8 + 2 + 6 = 16$

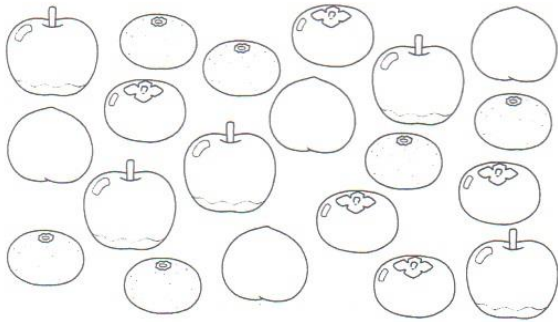
(28) $13 - 3 - 2 = 8$

(29) $4 + 6 - 7 = 3$

(30) $14 - 4 + 7 = 17$
*

★ いろいろなくだものがあります。

りんご、みかん、ももは、かずだけ
した
下にいろをぬりました。



りんご	みかん	もも	かき

(31) かきのかずだけ^{うえ}のを
下からじゅんにぬりましょう。

(32) かずがいちばんおいしい
くだものはなんですか。

みかん

★ とけいをよみましょう。

(33)



5じ

(34)



11じはん

★ いま、2じはんです。

下のとけいにながいはりを
かきましょう。

(35)

*



★ おやのさるが6びき、^ミ子どもの
さるが3びきいます。

さるは、ぜんぶでなんびき
いますか。

(36) しき

*

$$6 + 3 = 9$$

(37) こたえ

9びき

なまえ
名前

(うらにももんだいがあります)

★ ゆうきさんは、本を ^{ほん}きのうまでに
8ページ よんで います。
きょう 6ページ よみました。
ぜんぶで なんページ
よみましたか。

(38) しき
*

$$8 + 6 = 14$$

(39) こたえ

$$14 \text{ ページ}$$

★ ぶどうと みかんの ゼリーが
あわせて 10こ あります。
ぶどうの ゼリーは 7こです。
みかんの ゼリーは、なんこ
ありますか。

(40) しき
*

$$10 - 7 = 3$$

(41) こたえ

$$3 \text{ こ}$$

★ はがきが 6まい、きってが
13まい あります。
どちらが なんまい おおいですか。

(42) しき
*

$$13 - 6 = 7$$

(43) こたえ

$$\text{きって}$$

が

$$7 \text{ まい}$$

おおい。

(完答)

★ たまごが 12こ ありました。
きのう 2こ たべましたが、きょう
6こ かって きました。
たまごは、なんこに なりましたか。

(44) しき
*

$$12 - 2 + 6 = 16$$

(別解) $12 - 2 = 10$

$$10 + 6 = 16$$

(45) こたえ

$$16 \text{ こ}$$

(おもてにも もんだいが あります)