




10級	な ま え	がく ねん	きょう じつ	かい 名	会員番号		
	解 答						

(配点 *印・各4点 無印・各2点)




★ すうじに あう かずは
どれですか。

□に ○を かきましょう。




(1) 3

<input type="checkbox"/>	<input checked="" type="checkbox"/>	<input type="checkbox"/>
		

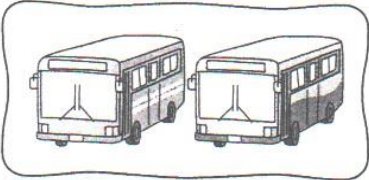
(2) 5

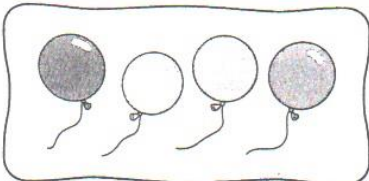
<input checked="" type="checkbox"/>	<input type="checkbox"/>	<input type="checkbox"/>
		

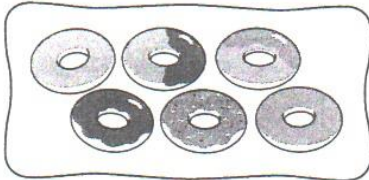
(3) 9


<input type="checkbox"/>	<input type="checkbox"/>	<input checked="" type="checkbox"/>
		


★ かずを かぞえて □に
すうじを かきましょう。


(4) 

(5) 

(6) 

(7) 

(8) 

(9) 

★ いちばん おおきい かずは
どれですか。

□に ○を かきましょう。

(10) 4 5 3

	○	
--	---	--

(11) 7 6 8

		○
--	--	---

(12) 10 8 9

○		
---	--	--

★ ならびかたを かんがえて、
□に あう すうじを
かきましょう。


(13) 3 4 5 6


(14) 9 8 7 6

(15) * 11 12 13 14




★ えを みて □に あう
すうじや ○を かきましょう。

	うえ				
					
ひだり					みぎ
					
					
	した				

-  は
うえから ⁽¹⁶⁾ □ 1 ばんめで、
ひだりから ⁽¹⁷⁾ □ 2 ばんめです。

-  は
したから ⁽¹⁸⁾ □ 2 ばんめで、
みぎから ⁽¹⁹⁾ □ 3 ばんめです。

(20) うえから 2ばんめで、
* ひだりから 3ばんめに ある
ものに ○を かきましょう。

		
	○	


(おもてにも もんだいが あります)

★ あわせると いくつに

なりますか。

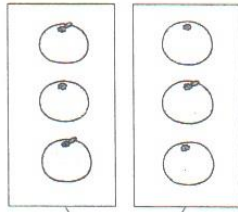
□に すうじを かきましょう。

(21)




5

(22)




6

(23)



8

(24)



7

(25)
*



9

(26)
*




10

★ いくつと いくつに

わけられますか。

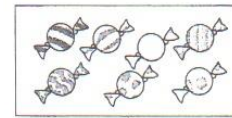
□に すうじを かきましょう。

(27)



1 4

(28)



2 5

(29)



4 2

(30)



3 6

(31)
*

8

4 4

(32)
*

10

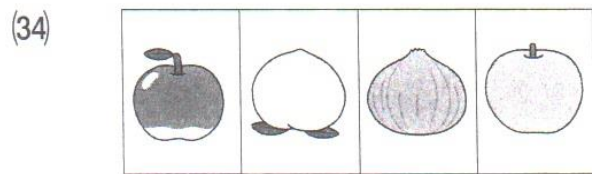

7 3

なまえ

(うらにも もんだいが あります)


★ なかまが ちがう ものは
どれですか。

□に ○を かきましょう。



★ ^{しかく} □ や ^{さんかく} △ を なんこ
つかって いますか。

□に すうじを かきましょう。

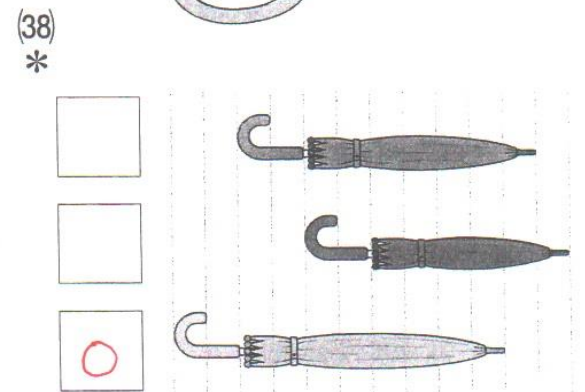
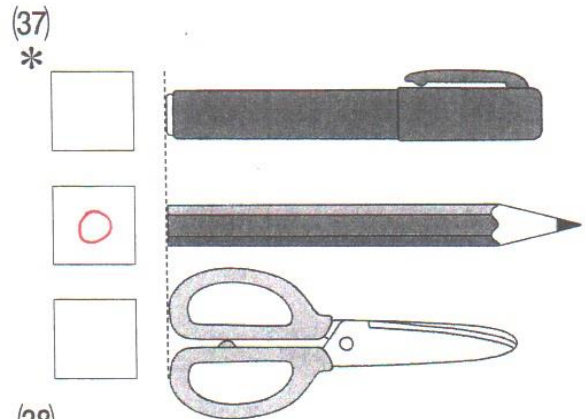


(35) □ は ぜんぶで 4 こ



(36) △ は ぜんぶで 7 こ

★ いちばん ながいのは
どれですか。

□に ○を かきましょう。



★ なんじですか。□に あう
すうじを かきましょう。



(おもてにも もんだいが あります)