

<div style="border: 2px solid black; border-radius: 50%; width: 40px; height: 40px; display: flex; align-items: center; justify-content: center; margin: 0 auto;"> 8 </div> 級	名 前	学 年	教 室	会 員 番 号
	解 答			

(配点 *印・各3点 無印・各2点)

★ □に あてはまる 数を 数字で 書きましょう。

(1) 100を 4こ と 10を 6こ

あわせた 数は, 460 です。

(2) 10を 35こ あつめた 数は,

350 です。

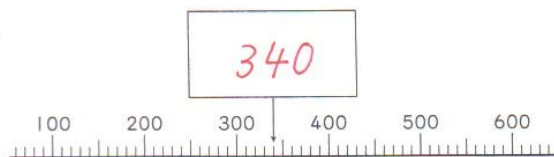
(3) 999は あと 1 で

1000に なります。

(4) 810より 1 小さい 数は,

809 です。

(5)



★ □に あてはまる >, <, =の しるしを 書きましょう。

(6) 796 > 789

(7) 150 = 70+80

★ 計算を しましょう。

(8)

$$\begin{array}{r} 36 \\ +28 \\ \hline 64 \end{array}$$

(9)

$$\begin{array}{r} 69 \\ +67 \\ \hline 136 \end{array}$$

(10)
*

$$\begin{array}{r} 823 \\ + 68 \\ \hline 891 \end{array}$$

(11)

$$\begin{array}{r} 82 \\ -74 \\ \hline \end{array}$$



(12)

$$\begin{array}{r} 103 \\ - 36 \\ \hline 67 \end{array}$$

(13)
*

$$\begin{array}{r} 571 \\ - 63 \\ \hline 508 \end{array}$$

★ 4×3 のしきになるように
おはじきをならべたのは、**あ**、**い**の
どちらですか。



(14) 答え あ

★ 計算をしましょう。

(15) $5 \times 7 = 35$

(16) $4 \times 6 = 24$

(17) $7 \times 8 = 56$

(18) $9 \times 7 = 63$

(19) $8 \times 4 = 32$

★ □にあてはまる数を書きましょう。

(20) $6 \times 4 = 6 \times 3 + \boxed{6}$

(21) $3 \times 8 = 3 \times \boxed{7} + 3$

★ 答えが18になる九九を
4つ見つけて、かけ算のしきで
書きましょう。

(22) 答え 2×9 , 9×2
* 3×6 , 6×3
(順不同、完答)

★ 右の時計を見て、
時こくや時間を
答えましょう。



(23) 30分後の時こく

$\boxed{9}$ 時 $\boxed{50}$ 分

(完答)

(24) 1時間前の時こく

$\boxed{8}$ 時 $\boxed{20}$ 分

(完答)

(25) 10時までの時間

$\boxed{40}$ 分

★ はるとさんの クラスで、すきな
スポーツを しらべました。

ダンス	水えい	サッカー	やきゅう	ダンス
水えい	ダンス	水えい	サッカー	水えい
サッカー	サッカー	やきゅう	ダンス	やきゅう
やきゅう	水えい	サッカー	水えい	

↑ 1人が 1つ すきな スポーツを ^か書きました。

(26) やきゅうの ^{にんずう}人数を しらべて、
下の ひょうに 書きましよう。

すきな スポーツと 人数

スポーツ	ダンス	水えい	サッカー	やきゅう
人数	4	6	5	4

(27) やきゅうの
人数を、右の
グラフに ●で
あらわましよう。

すきな スポーツと 人数

	●		
	●	●	
●	●	●	○
●	●	●	○
●	●	●	○
●	●	●	○
ダ ン ス	水 え い	サ ッ カ ー	や き ゆ う

(28) すきな 人が
いちばん ^{おほ}多い
スポーツは
^{なん}何ですか。

こた 答え 水えい

(29) 水えいと やきゅうの 人数の
ちがいは 何人ですか。

答え 2人

★ 下の 図を 見て、答えましよう。



(30) (a)の テープの ^{なが}長さは
何cm何mmですか。

答え 5 cm 5 mm

(31) (a)と (i)の テープを あわせた
長さは 何cm何mmですか。

$$5\text{cm } 5\text{mm} + 3\text{cm}$$

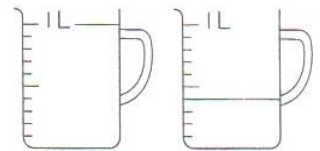
答え 8 cm 5 mm

(32) (a)の テープは (i)の テープより
* 何cm何mm 長いですか。

$$5\text{cm } 5\text{mm} - 3\text{cm}$$

答え 2 cm 5 mm

★ 右の 水の
かさについて
答えましよう。



(33) 水の かさは 何L何dLですか。

答え 1 L 4 dL

(34) 水の かさは 何dLですか。

答え 14 dL

(35) あと 何dLで 2Lに なりますか。

答え 6 dL

な まえ
名 前

(うらにも もんだいが あります)

★ 96人に ^{がようし}画用紙を 1まいずつくばると、9まい あります。画用紙は、ぜんぶで ^{なん}何まい ありますか。

(36) しき
*

$$96 + 9 = 105$$

(37) ^{こた}答え 105 まい

★ 2年生の ^{にんずう}人数は 113人です。

1年生の 人数は、2年生の 人数より 17人 ^{すく}少ないそうです。1年生の人数は 何人ですか。

(38) しき
*

$$113 - 17 = 96$$

(39) 答え 96 人

★ ^{なが}長いすが 8つ あります。1つの長いすに 6人ずつ すわります。みんなで 何人 すわれますか。

「1つ分の ^{ぶん}数×いくつ分の ^{かず}しき」の ^かしきに 書いて もとめましょう。

(40) しき
*

$$6 \times 8 = 48$$

(41) 答え 48 人

★ 赤い テープの 長さは 9cmです。

青い テープの 長さは、赤い テープの 長さの 4ばい あります。

青い テープの 長さは 何cmですか。

「1つ分の 数×いくつ分」の しきに 書いて もとめましょう。

(42) しき
*

$$9 \times 4 = 36$$

(43) 答え 36 cm

★ あおいさんは、64ページの 本を ^よ読んで います。きのうまでに

13ページ 読み、きょうは 7ページ 読みました。のこりは 何ページになりましたか。

1つの しきに 書いて もとめましょう。

(44) しき
*

$$64 - 13 - 7 = 44$$

$$(別解) 64 - (13 + 7) = 44$$

(45) 答え 44 ページ

(おもてにも もんだいが あります)